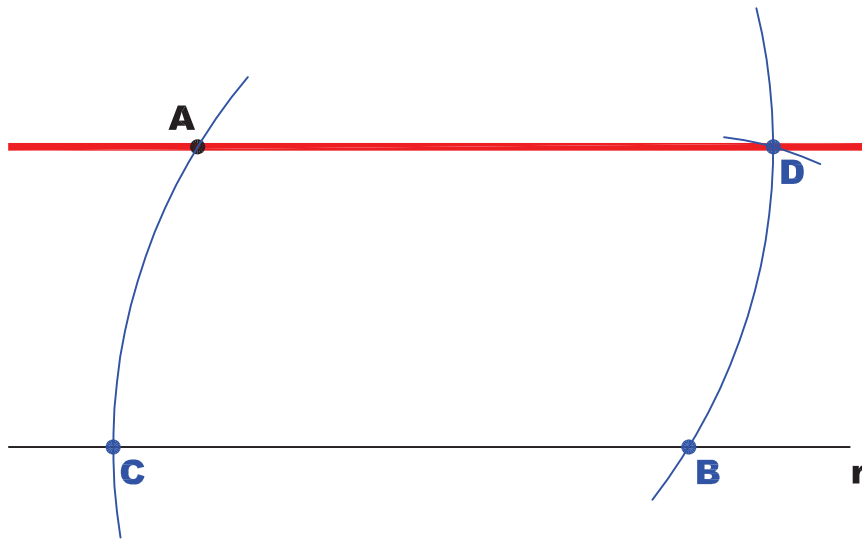



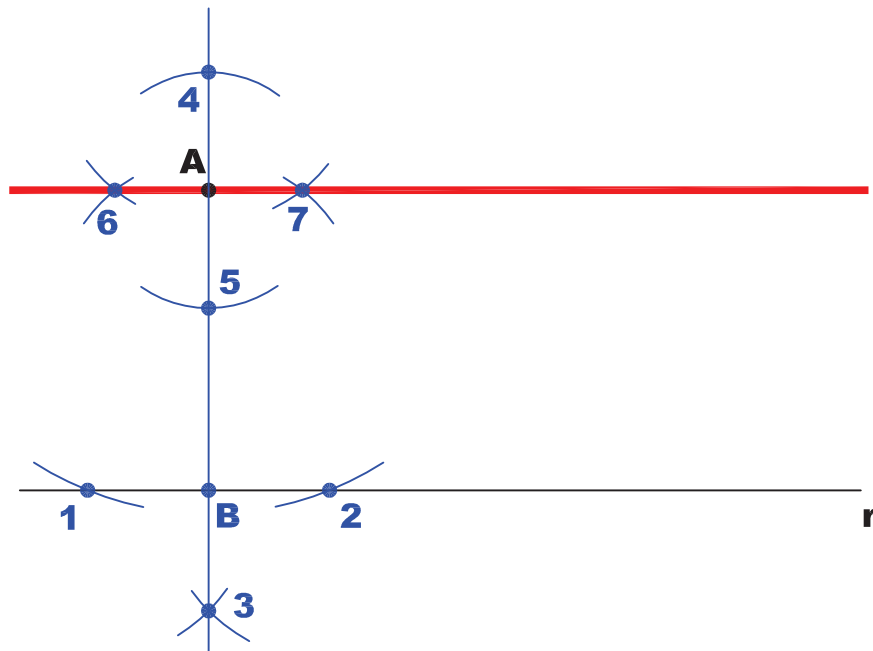
DE UM PONTO DADO **A** TRAÇAR A RETA PARALELA A UMA RETA DADA **r**.

COM CENTRO DO COMPASSO EM **A** E RAIOS QUALQUER **AB**, TRAÇAMOS UM ARCO.
COM CENTRO EM **B** E MESMO RAIOS ANTERIOR, TRAÇAMOS O ARCO **AC**.
TOMAMOS **BD** IGUAL A **CA** E OBTÉMOS O PONTO **D**.



OUTRA CONSTRUÇÃO:

TRAÇAMOS POR **A** A RETA **AB** PERPENDICULAR À RETA **r**.
TRAÇAMOS POR **A** A PERPENDICULAR À RETA **AB**.



INSTITUTO FEDERAL DE
EDUCAÇÃO, CIÊNCIA E TECNOLOGIA
RIO GRANDE DO NORTE
Campus Natal - Central

Departamento Acadêmico de Construção Civil

Curso: Técnico em Edificações

Comp. Curricular: FOR.T005 - Desenho (80h)

Professora: **Gilda Lúcia B. Menezes**

Período letivo:

2009.1

Assunto:

PARALELAS