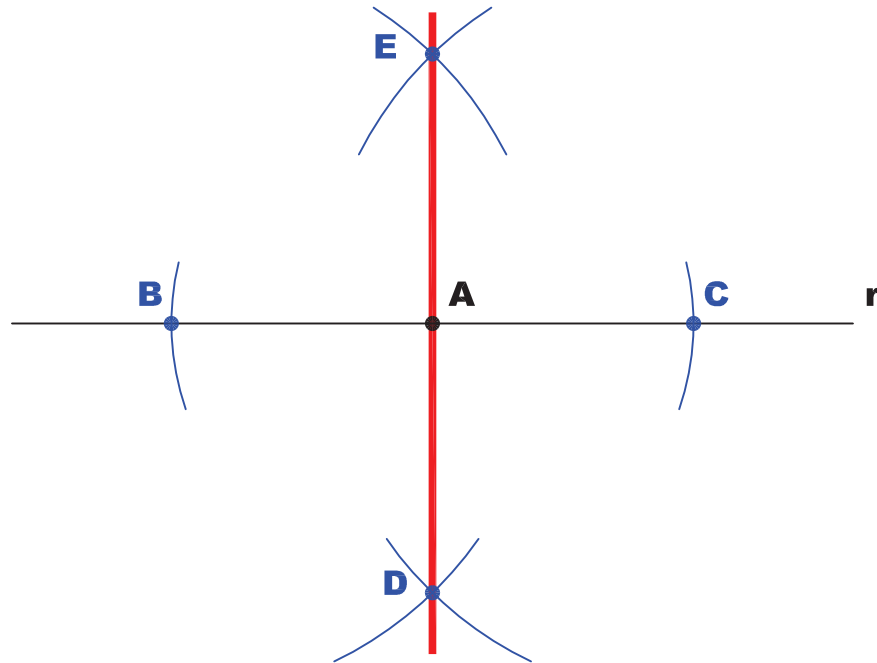



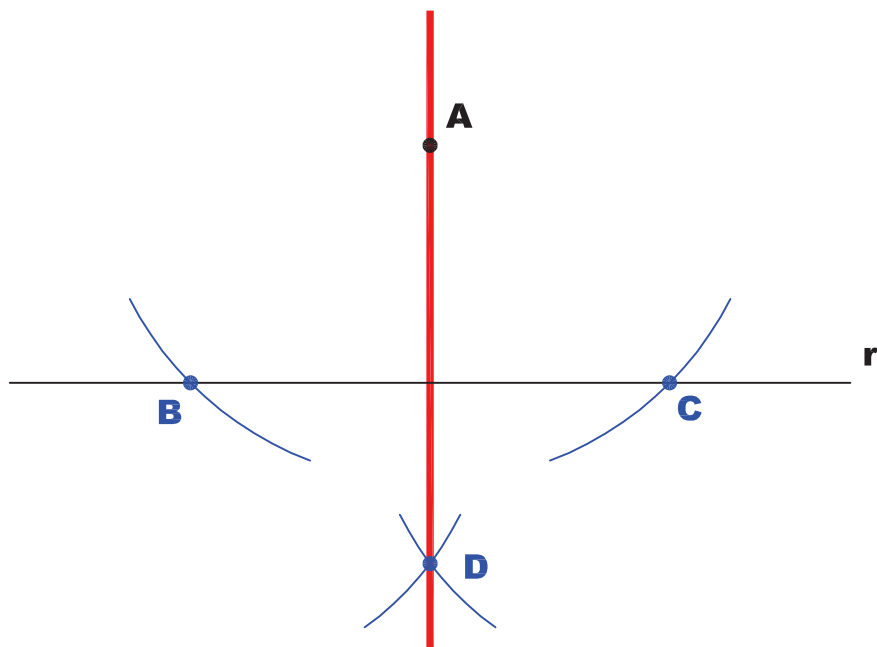
DE UM PONTO **A** TRAÇAR A PERPENDICULAR A UMA RETA **r**.

COM CENTRO DO COMPASSO EM **A** E RAIOS QUALQUER, MARCAMOS OS PONTOS **B** E **C**. COM CENTRO EM **B** E RAIOS QUALQUER, TRAÇAMOS ARCOS ACIMA E ABAIXO DE **r**. COM CENTRO EM **C** E MESMO RAIOS, OBTÉMOS A PERPENDICULAR **DE**.

CASO ONDE O PONTO PERTENCE À RETA:



CASO ONDE O PONTO NÃO PERTENCE À RETA:



INSTITUTO FEDERAL DE
EDUCAÇÃO, CIÊNCIA E TECNOLOGIA
RIO GRANDE DO NORTE
Campus Natal - Central

Departamento Acadêmico de Construção Civil

Curso: Técnico em Edificações

Comp. Curricular: FOR.T005 - Desenho (80h)

Professora: Gilda Lúcia B. Menezes

Período letivo:

2009.1

Assunto:

PERPENDICULARES