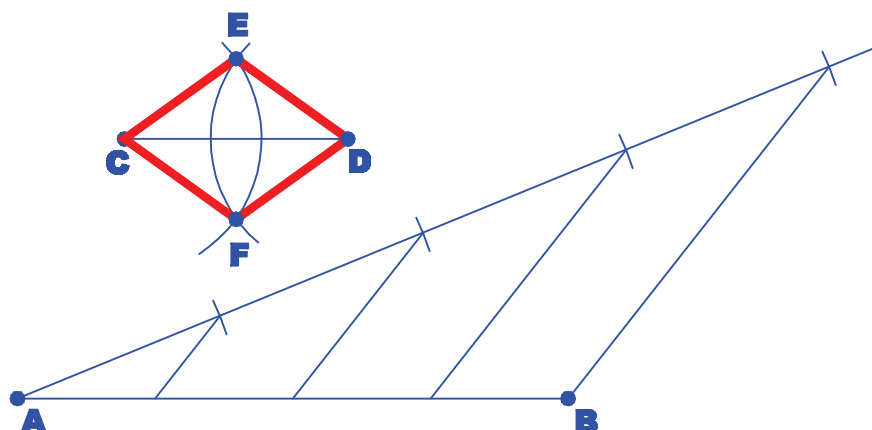



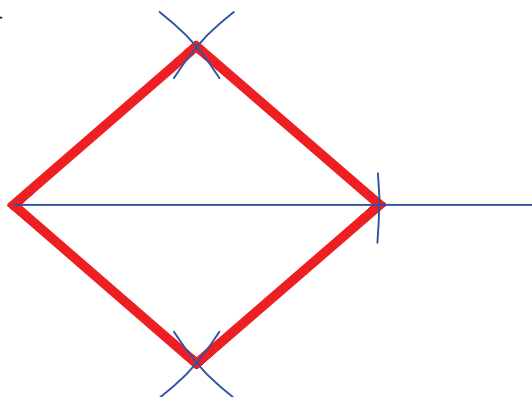
CONSTRUIR UM LOSANGO, DADOS O PERÍMETRO E A DIAGONAL MAIOR.

*DESENHE OS ELEMENTOS DADOS, SENDO **AB** O PERÍMETRO E **CD** A DIAGONAL MAIOR. DIVIDA **AB** EM 4 PARTES IGUAIS, DETERMINANDO ASSIM A DIMENSÃO DOS 4 LADOS. COM CENTRO EM **C** E DEPOIS EM **D**, DESENHE ARCOS COM RAIOS IGUAIS AO LADO, DETERMINANDO OS PONTOS **E** E **F**. O LOSANGO É OBTIDO UNINDO-SE **C-F-D-E-C**.*



CONSTRUIR UM LOSANGO, DADOS O LADO E A DIAGONAL MAIOR.

*DESENHE OS ELEMENTOS DADOS.
SOBRE UMA RETA HORIZONTAL DE DIMENSÃO IGUAL À DIAGONAL DADA, DESENHE EM CADA EXTREMIDADE, ARCOS DE RAIOS IGUAIS AO LADO DADO.
O CRUZAMENTO DOS ARCOS DETERMINA OS 2 VÉRTICES DA DIAGONAL MENOR DO LOSANGO.*



INSTITUTO FEDERAL DE
EDUCAÇÃO, CIÊNCIA E TECNOLOGIA
RIO GRANDE DO NORTE
Campus Natal - Central

Departamento Acadêmico de Construção Civil
Curso: Técnico em Edificações
Comp. Curricular: FOR.T005 - Desenho (80h)
Professora: Gilda Lúcia B. Menezes

Período letivo:

2009.1

Assunto:

LOSANGO 1