

TRAÇAR UM PARALELOGRAMO, DADOS UM ÂNGULO, UM LADO E A DIAGONAL OPOSTA.

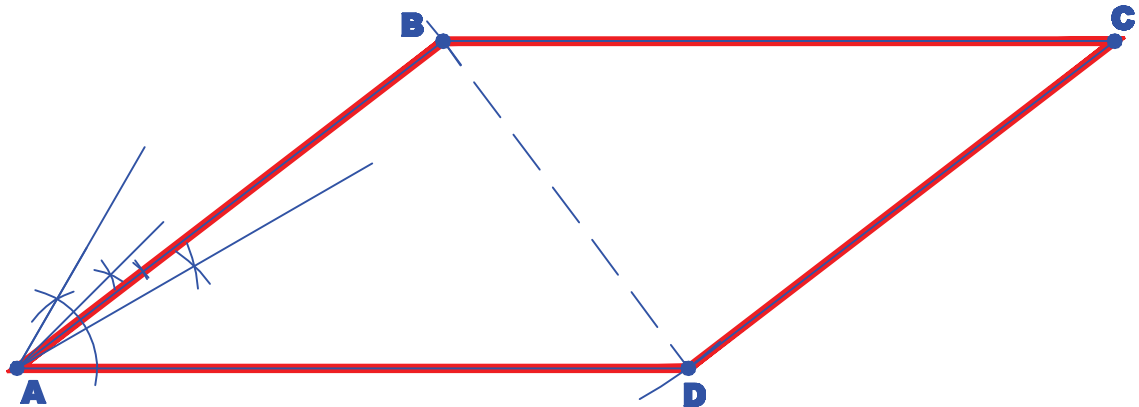
*DESENHE UMA RETA HORIZONTAL E MARQUE O ÂNGULO NO PONTO **A***

*A PARTIR DE **A**, E SOBRE O ALINHAMENTO DO ÂNGULO, MARQUE O VALOR DO LADO, OBTENDO **B**.*

*COM CENTRO EM **B**, E RAIOS IGUAIS AO VALOR DA DIAGONAL, DESENHE O ARCO, OBTENDO O PONTO **D** NO CRUZAMENTO COM A HORIZONTAL*

*A PARTIR DE **D**, DESENHE UMA PARALELA A **AB**, E EM **B**, UMA PARALELA A **AD**. MARQUE O PONTO **C** NO CRUZAMENTO DAS DUAS PARALELAS.*

*O PARALELOGRAMO É OBTIDO PELA UNIÃO DOS PONTOS **A-B-C-D-A***


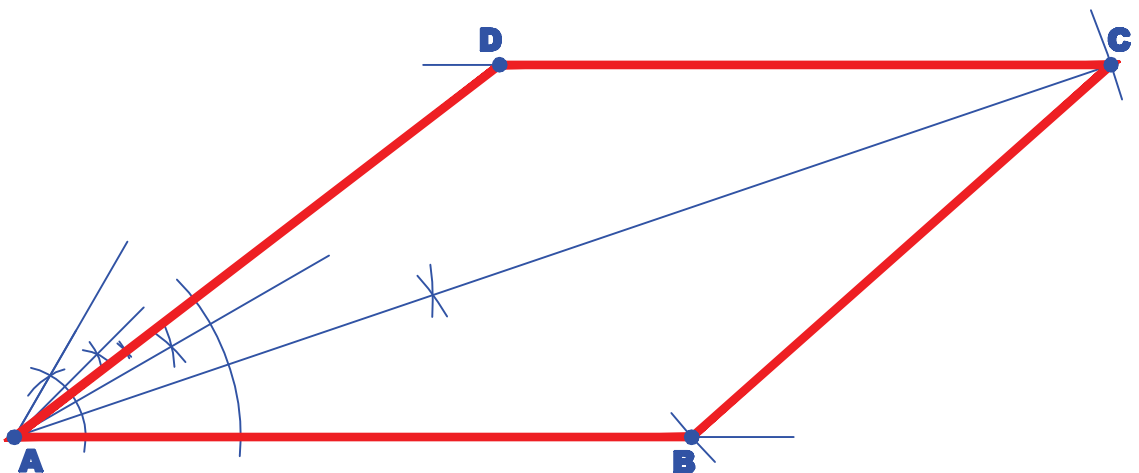


TRAÇAR UM PARALELOGRAMO, DADOS UM ÂNGULO, UM LADO E A DIAGONAL QUE PARTE DA ORIGEM DO ÂNGULO DADO.

*DESENHE UMA HORIZONTAL E NO PONTO **A**, MARQUE O ÂNGULO. DIVIDA O ÂNGULO DESENHADO AO MEIO E SOBRE A BISSETRIZ, MARQUE O VALOR DA DIAGONAL, OBTENDO O PONTO **C**.*

*COM CENTRO EM **C** E RAIOS IGUAIS AO LADO, TRACE UM ARCO QUE INTERCEPTA A HORIZONTAL, OBTENDO O PONTO **B**.*

*TRACE UMA PARALELA A **AB** A PARTIR DE **C** E MARQUE O PONTO **D** NO CRUZAMENTO COM O ALINHAMENTO DO ÂNGULO.*



INSTITUTO FEDERAL DE
EDUCAÇÃO, CIÊNCIA E TECNOLOGIA
RIO GRANDE DO NORTE
Campus Natal - Central

Departamento Acadêmico de Construção Civil

Curso: Técnico em Edificações

Comp. Curricular: FOR.T005 - Desenho (80h)

Professora: Gilda Lúcia B. Menezes

Período letivo:

2009.1

Assunto:

PARALELOGRAMO